

⑩ 1 malá škola 4.A M od 18. do 25. 5.

opakuji násobilku : \cdot krát , $:$ děleno

napiš násobky $8 : 0,8$, _____
 $9 :$ _____
 $7 :$ _____
 $4 :$ _____

čti čísla : mluv ZJ

Napiš čísla slovy :

1) 815	osm set patnáct	2) 500
165		0
429		100
1000		900
846		400
15		200
719		800
97		1000
311		600
684		700

1) seřad čísla od největšího k nejmenšímu:

Napiš nejmenší číslo: _____

Napiš největší číslo: _____

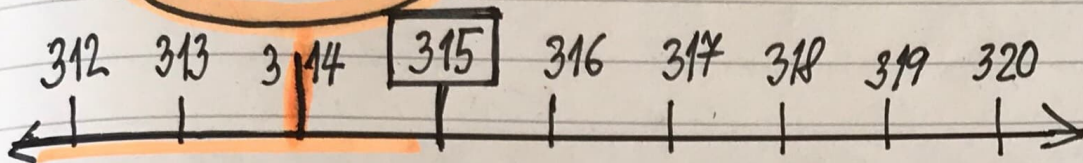
2) seřad čísla od nejmenšího k největšímu:

Napiš největší číslo : _____

Napiš nejmenší číslo : _____

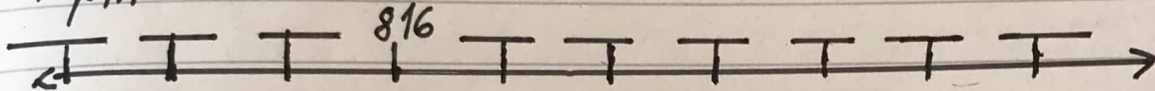
102 malá škola 4. A M od 18. do 25. 5.

hned před



Číslo 314 leží hned před číslem 315.

Doplň číselnou řadu:



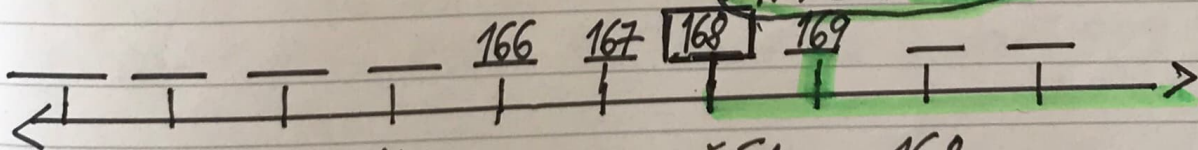
Označ číslo, které leží hned před číslem 816
Napiš číslo, které leží hned před číslem 816 _____.

Označ zeleně číslo, které leží hned před číslem 819.

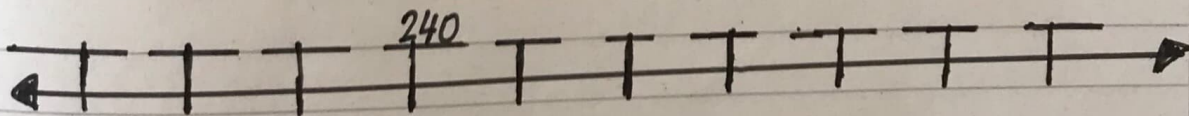
Napiš číslo, které leží hned před číslem 819 _____.

Doplň čísla:

hned za



Číslo 169 leží hned za číslem 168.



Doplň čísla

Označ číslo, které leží hned za číslem 240.


Napiš číslo, které leží hned za číslem 240. _____

Napiš číslo, které leží hned za číslem 243. _____

Napiš číslo, které leží hned před číslem 240. _____

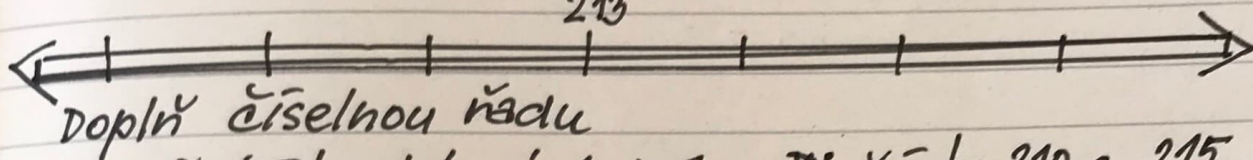
103 malá škola 4.A JK od 18. do 25.5.

mezi



Čísła 107, 108, 109, 110, 111 leží mezi 106 a 112.

213



Doplň číselnou řadu

Označ čísla, která leží mezi čísly 210 a 215.

Napiš čísla, která leží mezi čísly 210 a 215.

1. Napiš číslo, které leží hned za číslem 899.
2. Napiš deset čísel, která leží před číslem 420.
3. Napiš čísla, která leží mezi čísly 378 a 385.
4. Napiš čísla, která leží mezi čísly 798 a 819.
5. Napiš číslo, které leží hned před číslem 800.
6. Napiš šest čísel, která leží za číslem 790.
7. Napiš čísla, která leží mezi čísly 148 a 160.
8. Napiš číslo, které leží hned před číslem 999.
9. Napiš číslo, které leží hned za číslem 999.

1. 900

2. _____

3. _____

4. _____

5. _____

6. _____

7. _____

8. _____

9. _____